

Фамилия:

.....

Имя:

.....

E-mail:

.....

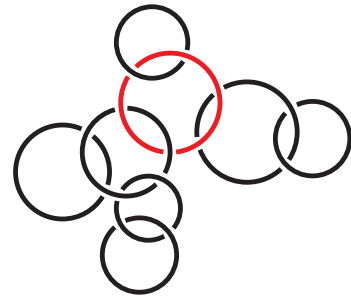
Внимание! Заполнение этого бланка означает согласие на обработку ваших персональных данных.

1. Чебурашка зашифровал некоторые буквы цифрами (одинаковым буквам соответствуют одинаковые цифры, разным — разные). Имя ГЕНА превратилось в число 1234. В какое число могло превратиться имя КЕНГА?

32154 21354 54312 52341 52314

2. Несколько из нарисованных колец образуют цепочку, в которую входит красное кольцо. Сколько колец в этой цепочке?

4 5 6
 7 8



3. Сколько веков в одной килодюзине месяцев?

1 6 10 12 100

4. У Алисы было 3 белых, 2 черных и 2 желтых куса бумаги. Она разрежала на две части каждый не черный кусок. Затем она разрежала на две части каждый не белый кусок. Сколько всего кусков у нее получилось?

18 17 16 15 14

5. На четырех рисунках показана правая рука, а на одном — левая. На каком рисунке левая рука?



6. Если середина первой половины июня — среда, то середина второй половины июня того же года — это

понедельник вторник четверг пятница суббота

7. Чему равна сумма двух чисел, если она на шесть больше одного из них и в три раза больше другого?

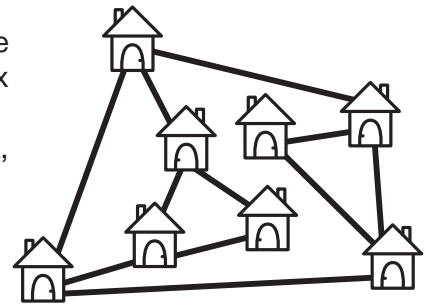
9 12 16 18 24

8. Пятиклассница Саша смотрела на секундомер и время от времени записывала, куда указывает стрелка. У нее получился такой список: вверх, влево, вниз, вправо, вверх. Какое наименьшее время Саша могла смотреть на секундомер?

- 2 мин 2 мин 30 сек 2 мин 45 сек 3 мин 4 мин

9. В деревне во всех домах живут мыши. Как только в доме заводят кошку, все мыши убегают из этого дома и из всех домов, соединенных с ним дорожкой (см. рисунок). В каком наименьшем числе домов надо завести кошек, чтобы мыши покинули деревню?

- 1 2 3
 4 5



10. В прямоугольнике, состоящем из 40 клеток, больше одной строки. Вася закрасил все клетки средней строки. Сколько осталось незакрашенных клеток?

- 20 25 28 30 32

11. Сколько целых положительных чисел ближе к 2, чем к 7?


- 1 2 3 4 5

12. В комнате находятся три котенка и два утенка, а во дворе — один котенок и три утенка. Шесть лап перебежали из комнаты в кухню, а потом восемь лап прибежали со двора в комнату. Сколько утят стало в комнате?

- 1 2 3 4 5

13. Петя положил на стол несколько бумажных треугольников, а потом накрыл их кругом (см. рисунок). Какое наименьшее число треугольников мог положить Петя?

- 3 4 5
 6 7



14. Сидор — сын брата жены Петра. Тогда Пётр —?

- отец жены брата Сидора отец брата жены Сидора
 отец мужа сестры Сидора муж сестры матери Сидора
 муж сестры отца Сидора

15. На Карибских островах 350 дней в году — солнечные. Пират Сильвер прибыл на один из островов 1 января 2018 года. Какое наименьшее количество дней ему придется оставаться на острове, чтобы среди этих дней обязательно было два солнечных дня подряд?

- 21 30 31 32 35